

Groep 4 - Blok 4

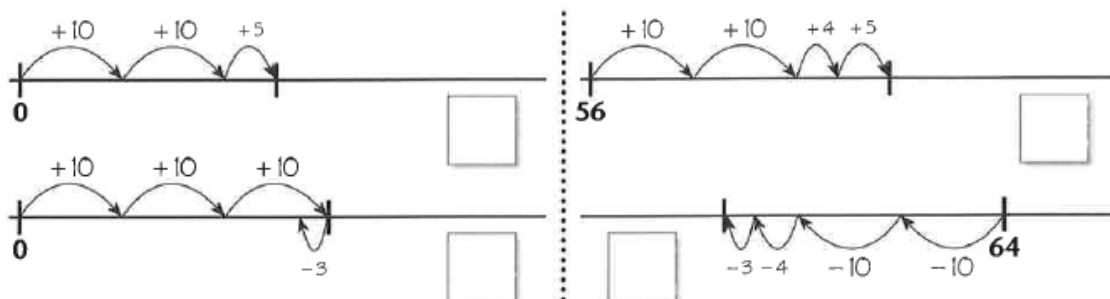


IK KAN TELLEN MET SPRINGEN VAN 10 EN GROTE HUPPEN.


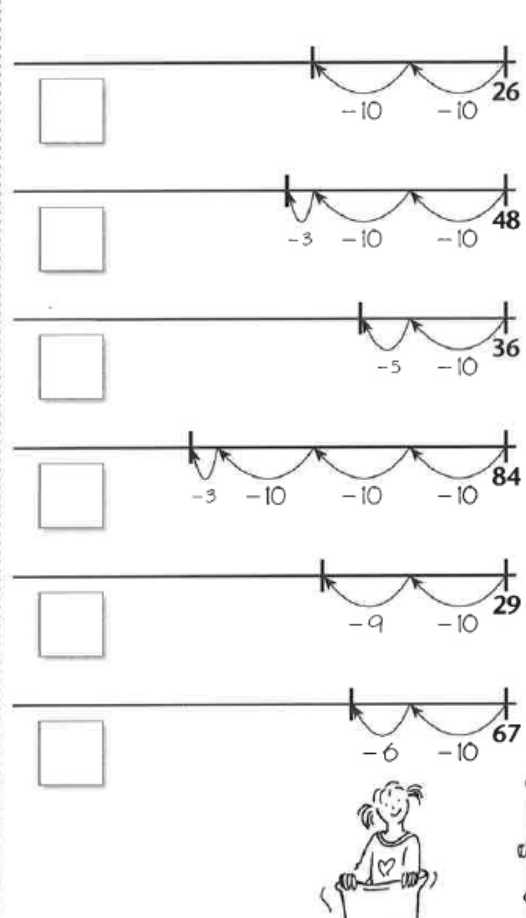
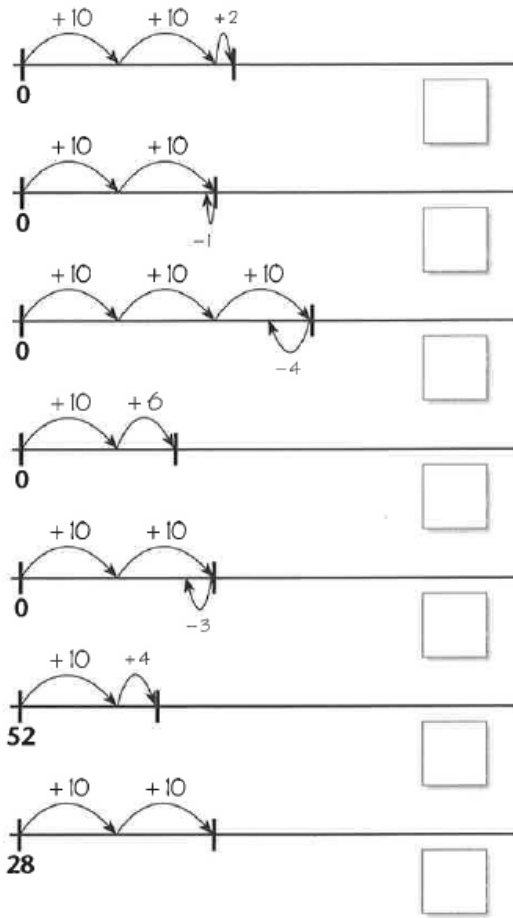
Zo doe ik dat.

1. Op welk getal begin je?
2. Hoeveel sprongen van 10? Tel door of tel terug.
3. Hoe groot is de hup? Tel door of tel terug.
4. Waar kom je uit?

1 Waar kom je uit?



2 Op welk getal kom je uit?



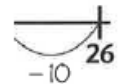
IK KAN OPTELLEN BOVEN DE 20 MET HANDIGE SPRONGEN EN HUPPEN.

Zo doe ik dat.

1. Op welk getal begin je?
2. Hoeveel sprongen van 10?
3. Welke huppen?
4. Waar kom je uit?

1 Reken uit.
Gebruik de getallenlijn.

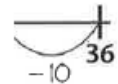
$32 + 7 = \dots\dots\dots$



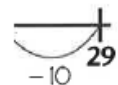
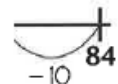
$48 + 9 = \dots\dots\dots$



$60 + 30 = \dots\dots\dots$



$39 + 40 = \dots\dots\dots$



2 Reken uit.

$23 + 6 = \dots\dots\dots$

$45 + 4 = \dots\dots\dots$

$31 + 8 = \dots\dots\dots$

$62 + 7 = \dots\dots\dots$

$71 + 5 = \dots\dots\dots$

$65 + 8 = \dots\dots\dots$

$29 + 5 = \dots\dots\dots$

$36 + 6 = \dots\dots\dots$

$89 + 9 = \dots\dots\dots$

$67 + 7 = \dots\dots\dots$

$60 + 20 = \dots\dots\dots$

$20 + 40 = \dots\dots\dots$

$10 + 60 = \dots\dots\dots$

$70 + 20 = \dots\dots\dots$

$30 + 50 = \dots\dots\dots$

$37 + 30 = \dots\dots\dots$

$42 + 20 = \dots\dots\dots$

$56 + 40 = \dots\dots\dots$

$25 + 60 = \dots\dots\dots$

$62 + 20 = \dots\dots\dots$

**IK KAN AFTREKKEN BOVEN DE 20 MET HANDIGE
SPRONGEN EN HUPPEN.**

Zo doe ik dat.

1. Op welk getal begin je?
2. Hoeveel sprongen van 10 terug?
3. Welke huppen terug?
4. Waar kom je uit?

1 Reken uit.
Gebruik de getallenlijn.

$76 - 5 = \dots\dots\dots$ 

$37 - 9 = \dots\dots\dots$ 

$60 - 40 = \dots\dots\dots$ 

$59 - 20 = \dots\dots\dots$ 

2 Reken uit.

$47 - 6 = \dots\dots\dots$

$86 - 5 = \dots\dots\dots$

$95 - 4 = \dots\dots\dots$

$68 - 7 = \dots\dots\dots$

$59 - 8 = \dots\dots\dots$

$44 - 5 = \dots\dots\dots$

$63 - 6 = \dots\dots\dots$

$76 - 8 = \dots\dots\dots$

$54 - 7 = \dots\dots\dots$

$48 - 9 = \dots\dots\dots$

$70 - 40 = \dots\dots\dots$

$90 - 60 = \dots\dots\dots$

$80 - 40 = \dots\dots\dots$

$50 - 10 = \dots\dots\dots$

$60 - 30 = \dots\dots\dots$

$67 - 40 = \dots\dots\dots$

$83 - 80 = \dots\dots\dots$

$36 - 20 = \dots\dots\dots$

$91 - 80 = \dots\dots\dots$

$76 - 30 = \dots\dots\dots$

IK KAN METEN MET EEN MEETLINT EN EEN LINIAAL.

Zo doe ik dat.

Liniaal aflezen.

1. Leg de 0 van de liniaal precies op het begin van de lijn.
2. Bij welk getal stopt de lijn?

Lijnen meten.

1. Leg de 0 van de liniaal precies op het begin van de lijn.
2. Meet het eerste stuk. Hoe lang?cm
3. Meet het tweede stuk. Hoe lang?cm
4. Hoeveel cm samen?


- 1** Hoe lang?
Kijk op de liniaal.



Meet nu zelf.



2 Hoe lang?
Kijk op de liniaal.



Meet nu zelf.

